


Mesure des aires

Compétences : Mesurer ou estimer l'aire d'une surface à l'aide d'une unité de référence.

Prénom
Date

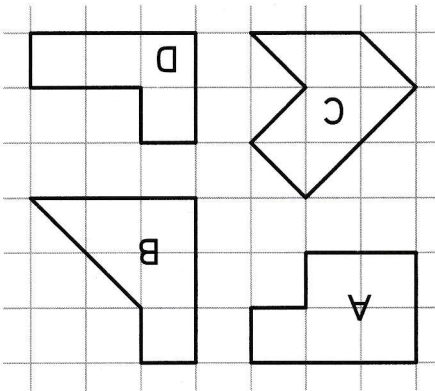

1 Mesure l'aire du carré avec l'unité *w*.



Aire du carré =

2 Exprime la mesure de l'aire de chaque figure avec l'unité *u*, puis avec l'unité *w*.

Nom des figures	Mesure des aires			
	A	B	C	D

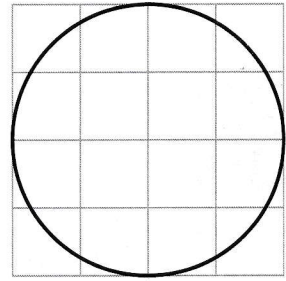


Quelles figures ont la même aire ?

Que remarques-tu entre les mesures exprimées avec l'unité *u* et celles exprimées avec l'unité *w* ?

3 On a mesuré l'aire du disque en carreaux.

Entoure la phrase correcte.



L'aire du disque est égale à 16 carreaux.

L'aire du disque est inférieure à 16 carreaux.

L'aire du disque est supérieure à 16 carreaux.